



KEMENTERIAN PENDIDIKAN DAN KEBUDAYAAN
DIREKTORAT JENDERAL PENDIDIKAN ANAK USIA DINI,
PENDIDIKAN DASAR DAN PENDIDIKAN MENENGAH
DIREKTORAT SEKOLAH MENENGAH ATAS
2020



Modul Pembelajaran SMA

Matematika Peminatan



KELAS
XII



LIMIT FUNGSI DI KETAKHINGGAAN MATEMATIKA PEMINATAN KELAS XII

PENYUSUN

Yuyun Sri Yuniarti

**SMA Negeri 1 Pedes
Kabupaten Karawang**

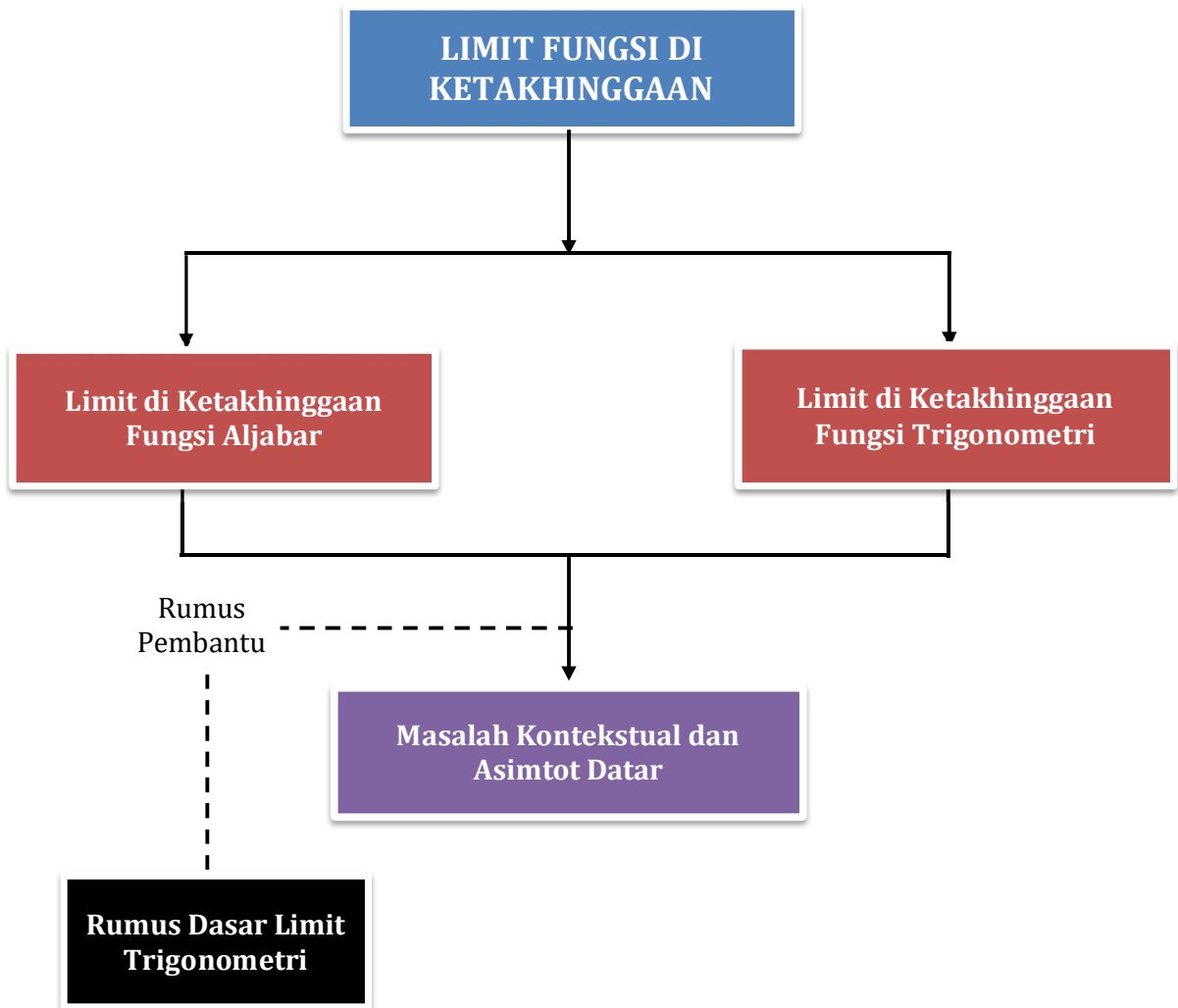
DAFTAR ISI

PENYUSUN	2
DAFTAR ISI	3
GLOSARIUM.....	4
PETA KONSEP.....	5
PENDAHULUAN.....	6
A. Identitas Modul	6
B. Kompetensi Dasar	6
C. Deskripsi Singkat Materi	6
D. Petunjuk Penggunaan Modul	7
E. Materi Pembelajaran.....	7
KEGIATAN PEMBELAJARAN 1	8
Limit di Ketakhinggaan Fungsi Aljabar	8
A. Tujuan Pembelajaran	8
B. Uraian Materi	8
C. Rangkuman	14
D. Latihan Soal	15
E. Penilaian Diri	20
KEGIATAN PEMBELAJARAN 2	21
Limit di Ketakhinggaan Fungsi Trigonometri.....	21
A. Tujuan Pembelajaran	21
B. Uraian Materi	21
C. Rangkuman	25
D. Latihan Soal	25
E. Penilaian Diri	30
EVALUASI	31
DAFTAR PUSTAKA	36

GLOSARIUM

- Asimtot** : Suatu garis lurus yang didekati oleh lengkung dengan jarak semakin lama semakin kecil mendekati nol di tak hingga.
- Asimtot datar** : Suatu garis yang mendekati nilai y tertentu tidak melewati atau menyinggungnya
- Fungsi** : Merupakan suatu relasi yang memetakan setiap anggota dari suatu himpunan yang disebut daerah asal atau domain ke tepat satu anggota himpunan lain yang disebut daerah kawan atau kodomain
- Limit** : Batas atau suatu fungsi $f(x)$ akan mendekati nilai tertentu jika x mendekati nilai tertentu
- Limit di ketakhinggaan** : Batas atau suatu fungsi $f(x)$ akan mendekati nilai tertentu jika x mendekati tak hingga.
- Tak hingga** : “sesuatu” yang lebih besar dari bilangan manapun tetapi sesuatu itu BUKAN bilangan, dengan kata lain tidak ada bilangan yang lebih besar dari ∞ .
- Trigonometri** : Sebuah cabang matematika yang berkaitan dengan sudut segitiga dan fungsi trigonometri seperti sinus, cosinus, dan tangen.

PETA KONSEP



PENDAHULUAN

A. Identitas Modul

Mata Pelajaran : Matematika Peminatan
 Kelas : XII
 Alokasi Waktu : 12 jam pelajaran
 Judul Modul : Limit Fungsi di Ketakhinggaan

B. Kompetensi Dasar

- 3.2 Menjelaskan dan menentukan limit di ketakhinggaan fungsi aljabar dan fungsi trigonometri
- 4.3 Menyelesaikan masalah berkaitan dengan eksistensi limit di ketakhinggaan fungsi aljabar dan fungsi trigonometri

C. Deskripsi Singkat Materi

Salam jumpa melalui pembelajaran matematika dengan materi Limit di Ketakhinggaan. Modul ini disusun sebagai satu alternatif sumber bahan ajar siswa untuk memahami materi matematika peminatan kelas XII khususnya Limit di Ketakhinggaan. Melalui modul ini diharapkan Anda dapat menjelaskan dan menentukan limit di ketakhinggaan fungsi aljabar dan fungsi trigonometri serta dapat menyelesaikan masalah berkaitan dengan eksistensi limit di ketakhinggaan fungsi aljabar dan fungsi trigonometri.



Gambar 1 Fungsi ekonomi dapat diselesaikan dengan aturan limit

Sumber: <https://surabaya.tribunnews.com/2018/07/11/indonesia-memasuki-era-new-normal-investasi-harus-penuh-strategi?>

Gambar 1 merupakan contoh fungsi bisnis dan ekonomi. Fungsi-fungsi dalam bisnis dan ekonomi banyak yang berbentuk fungsi asinambung, terutama fungsi permintaan dan penawaran untuk jenis-jenis barang tertentu. Untuk menentukan nilai permintaan atau penawaran suatu barang dari fungsi tersebut dapat menggunakan aturan limit.

Masalah dalam kehidupan sehari-hari lainnya yang berkaitan dengan limit fungsi di ketakhinggaan adalah hubungan inang dan parasit tertentu. Diketahui bahwa kerapatan inang (jumlah inang per satuan luas) adalah x dan jumlah parasit selama periode waktu adalah $y = \frac{1200x}{15+30x}$. Jika kerapatan inang ditingkatkan tanpa batas, berapakah nilai yang akan didekati oleh y ?



Gambar 2 Hubungan inang dan parasit

Sumber: <https://www.kompas.com/skola/read/2020/02/03/200000469/tumbuhan-parasit--arti-dampak-dan-jenisnya?>

Salah satu tokoh yang berjasa dalam mempelajari konsep limit adalah Agustin Louis Cauchy (1789-1857) seorang ilmuwan yang pertama kali memperkenalkan definisi yang tepat tentang limit. Cauchy adalah seorang maha guru di di Ecola Polytechnique, Sarbone, dan College de France.

D. Petunjuk Penggunaan Modul

Modul ini dirancang untuk memfasilitasi Anda dalam melakukan kegiatan pembelajaran secara mandiri. Untuk menguasai materi ini dengan baik, ikutilah petunjuk penggunaan modul berikut.

1. Berdoalah sebelum mempelajari modul ini.
2. Pelajari uraian materi yang disediakan pada setiap kegiatan pembelajaran secara berurutan.
3. Perhatikan contoh-contoh penyelesaian permasalahan yang disediakan dan kalau memungkinkan cobalah untuk mengerjakannya kembali.
4. Kerjakan latihan soal yang disediakan, kemudian cocokkan hasil pekerjaan Anda dengan kunci jawaban dan pembahasan pada bagian akhir modul.
5. Jika menemukan kendala dalam menyelesaikan latihan soal, cobalah untuk melihat kembali uraian materi dan contoh soal yang ada.
6. Setelah mengerjakan latihan soal, lakukan penilaian diri sebagai bentuk refleksi dari penguasaan Anda terhadap materi pada kegiatan pembelajaran.
7. Di bagian akhir modul disediakan soal evaluasi, silahkan mengerjakan soal evaluasi tersebut agar Anda dapat mengukur penguasaan terhadap materi pada modul ini. Cocokkan hasil pengerjaan dengan kunci jawaban yang tersedia.
8. Ingatlah, keberhasilan proses pembelajaran pada modul ini tergantung pada kesungguhan Anda untuk memahami isi modul dan berlatih secara mandiri.

E. Materi Pembelajaran

Modul ini terbagi menjadi 2 kegiatan pembelajaran dan di dalamnya terdapat uraian materi, contoh soal, soal latihan dan soal evaluasi.

Pertama : Limit di Ketakhinggaan Fungsi Aljabar

Kedua : Limit di Ketakhinggaan Fungsi Trigonometri

KEGIATAN PEMBELAJARAN 1

Limit di Ketakhinggaan Fungsi Aljabar

A. Tujuan Pembelajaran

Setelah kegiatan pembelajaran 1 ini, diharapkan Anda dapat menjelaskan dan menentukan limit di ketakhinggaan fungsi aljabar serta dapat menyelesaikan masalah berkaitan dengan eksistensi limit di ketakhinggaan fungsi aljabar.

B. Uraian Materi

Pada pelajaran matematika wajib kelas XI, Anda telah belajar mengenai definisi limit fungsi aljabar yaitu bahwa suatu limit fungsi $f(x)$ dikatakan mendekati a $\{f(x), a\}$ sebagai suatu limit. Bila x mendekati a , dinotasikan limit $F(x) = L$. Cara menyelesaikan limit fungsi aljabar, terdapat 3 cara untuk menyelesaikan limit fungsi aljabar yaitu dengan metode (1) substitusi langsung; (2) pemfaktoran; (3) merasionalkan. Nahhh semoga Anda masih mengingat ini yaa...

Pada kegiatan pembelajaran ini kalian akan belajar bagaimana menyelesaikan limit fungsi di ketakhinggaan. Sebelum belajar bagaimana cara menyelesaikan limit fungsi di ketakhinggaan, kita kenalan dulu yuk sama yang namanya tak hingga. Jika kita berbicara tentang definisi, definisi dari simbol tak hingga (*Infinity*) adalah sebuah konsep abstrak yang menggambarkan sesuatu yang tanpa batas dan relevan dalam sejumlah bidang, terutama matematika dan fisika. Tak hingga diberi simbol ∞ "sesuatu" yang lebih besar dari bilangan manapun tetapi sesuatu itu BUKAN bilangan, dengan kata lain **tidak ada bilangan yang lebih besar dari ∞** .

$$a < \infty, \forall a \in R \text{ dan } \infty \notin R$$


Karena ∞ bukan sebuah bilangan, maka ∞ tidak ganjil, tidak genap dan tidak prima. Dalam kamus matematika Carol Vorderman, definisi tak hingga adalah tanpa batas-batas ukuran atau jumlah, tidak terbatas, tidak ada akhirnya.

Definisi 1

Misalkan f adalah fungsi yang didefinisikan pada suatu interval (a, ∞) . Maka

$$\lim_{x \rightarrow \infty} f(x) = L$$

Bermakna bahwa nilai $f(x)$ dapat dibuat sebarang dekat ke L dengan cara mengambil x cukup besar.



Cara menyelesaikan limit di ketakhinggaan dibagi menjadi 3, yaitu (1) substitusi langsung; (2) membagi dengan pangkat tertinggi; (3) merasionalkan penyebut. Sebagai materi prasyarat pada bahasan limit fungsi di ketakhinggaan, Anda harus mengingat kembali cara merasionalkan penyebut. Kalo Anda lupa gak perlu khawatir, di modul ini akan disajikan contoh soal beserta cara penyelesaiannya secara rinci.

Okay.. berikut ini kita simak bersama satu persatu cara menyelesaikan limit fungsi di ketakhinggaan.

Metode Substitusi Langsung

Penerapan metode substitusi langsung dalam menentukan atau menyelesaikan limit fungsi di ketakhinggaan sangat mudah, sama halnya dengan limit fungsi aljabar, yakni dengan langsung mengganti x atau variabel lain dengan angka yang tertera di soal, seperti berikut:

$$\lim_{x \rightarrow a} f(x) = f(a)$$

Hal ini berlaku pula untuk limit fungsi di ketakhinggaan:

$$\lim_{x \rightarrow \infty} f(x) = f(\infty)$$

Sebagai contoh, gunakan metode substitusi untuk menentukan nilai Limit fungsi berikut :

1. $\lim_{x \rightarrow \infty} x + 3 = \infty + 3 = \infty$
2. $\lim_{x \rightarrow \infty} x^2 + 2x - 4 = (\infty)^2 + 2(\infty) - 4 = \infty + \infty - 4 = \infty$

Membagi dengan Pangkat Tertinggi

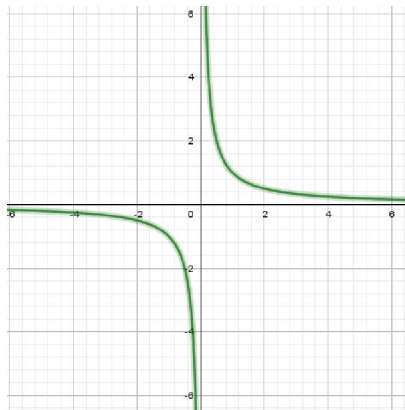
Misal kita akan mencari nilai $\lim_{x \rightarrow \infty} \frac{1}{x}$

Amati bahwa ketika x cukup besar, $\frac{1}{x}$ semakin kecil. Misalkan

$$\frac{1}{10} = 0,1 \quad \frac{1}{100} = 0,01 \quad \frac{1}{10.000} = 0,0001 \quad \frac{1}{1.000.000} = 0,000001$$

Nyatanya, dengan mengambil x cukup besar, kita dapat membuat $\frac{1}{x}$ sedekat yang diinginkan ke 0. Oleh karena itu, menurut definisi 1, kita mempunyai

$$\lim_{x \rightarrow \infty} \frac{1}{x} = 0$$



Gambar 1 fungsi $y = \frac{1}{x}$

Teorema limit yang diberikan pada modul sebelumnya berlaku juga untuk limit di ketakhinggaan. Berdasarkan contoh di atas kita peroleh aturan penting untuk perhitungan limit berikut.

Teorema

Jika $r > 0$ adalah bilangan rasional, maka

$$\lim_{x \rightarrow \infty} \frac{1}{x^r} = 0$$



Agar Anda dapat memahami cara penyelesaian soal limit fungsi di ketakhinggaan, Anda dapat memperhatikan contoh soal berikut:

1. Tentukan nilai $\lim_{x \rightarrow \infty} \frac{x^2 - 2x + 3}{x + 3}$

Perhatikan contoh soal nomor 1 tersebut, dapat Anda lihat soal tersebut memuat pangkat tertinggi yaitu x^2 . Oleh karena itu kita bagi semua komponen dalam fungsi tersebut dengan x^2 seperti ini:

$$\begin{aligned} \lim_{x \rightarrow \infty} \frac{x^2 - 2x + 3}{x + 3} &= \lim_{x \rightarrow \infty} \frac{\frac{x^2}{x^2} - \frac{2x}{x^2} + \frac{3}{x^2}}{\frac{x}{x^2} + \frac{3}{x^2}} \\ &= \lim_{x \rightarrow \infty} \frac{1 - \frac{2}{x} + \frac{3}{x^2}}{\frac{1}{x} + \frac{3}{x^2}} \\ &= \frac{\lim_{x \rightarrow \infty} 1 - \lim_{x \rightarrow \infty} \frac{2}{x} + \lim_{x \rightarrow \infty} \frac{3}{x^2}}{\lim_{x \rightarrow \infty} \frac{1}{x} + \lim_{x \rightarrow \infty} \frac{3}{x^2}} \\ &= \frac{1 - 0 + 0}{0 + 0} \\ &= \infty \end{aligned}$$

Sebuah bilangan jika dibagi dengan tak hingga atau bilangan yang sangaaatuuuuu besar, makanya nilainya akan mendekati NOL

(sifat limit)

(teorema 1)

2. Tentukan nilai $\lim_{x \rightarrow \infty} \frac{2x + 3}{3x^2 + 5x - 2}$

Nah untuk soal ini, Anda lihat bahwa pangkat tertinggi adalah x^3 sehingga Anda dapat membagi semua komponen dengan x^3 . Begini yaa..

$$\begin{aligned} \lim_{x \rightarrow \infty} \frac{2x + 3}{3x^2 + 5x - 2} &= \lim_{x \rightarrow \infty} \frac{\frac{2x}{x^2} + \frac{3}{x^2}}{\frac{3x^2}{x^2} + \frac{5x}{x^2} - \frac{2}{x^2}} \\ &= \lim_{x \rightarrow \infty} \frac{\frac{2}{x} + \frac{3}{x^2}}{3 + \frac{5}{x} - \frac{2}{x^2}} \\ &= \frac{0 + 0}{3 + 0 - 0} \\ &= \frac{0}{3} \\ &= 0 \end{aligned}$$

Sebuah bilangan jika dibagi dengan tak hingga atau bilangan yang sangaaatuuuuu besar, makanya nilainya akan mendekati NOL

3. Tentukan nilai dari $\lim_{x \rightarrow \infty} \frac{3x^4 + 2}{3 - 5x^4} = -\frac{3}{5}$

$$\lim_{x \rightarrow \infty} \frac{3x^4 + 2}{3 - 5x^4} = \lim_{x \rightarrow \infty} \frac{\frac{3x^4}{x^4} + \frac{2}{x^4}}{\frac{3}{x^4} - \frac{5x^4}{x^4}} = \lim_{x \rightarrow \infty} \frac{3 + \frac{2}{x^4}}{\frac{3}{x^4} - 5} = \frac{3 + 0}{0 - 5} = -\frac{3}{5}$$


Okay.. kita lihat kembali secara seksama ketiga contoh tersebut, untuk nomor satu Anda dapat lihat bahwa pangkat tertinggi terdapat di bagian pembilang dan hasil dari limitnya adalah ∞ . Lalu untuk contoh soal nomor dua, pangkat tertingginya ada di bagian penyebut, dan hasil limitnya adalah 0. Kemudian contoh soal ketiga, baik pembilang maupun penyebut mempunyai pangkat tertinggi yang sama, dan menghasilkan nilai limit sama dengan $-\frac{3}{5}$. Jika Anda jeli menyimak, kita dapat menyimpulkan ketiga contoh soal tersebut menjadi bentuk umum limit di ketakhinggaan fungsi aljabar sebagai berikut:

Bentuk Umum 1

Untuk a dan $b \in \mathbb{R}$

$$\lim_{x \rightarrow \infty} f(x) = \lim_{x \rightarrow \infty} \frac{a_1x^m + a_2x^{m-1} + a_3x^{m-2} + \dots + a_{n-1}x + a_n}{b_1x^p + b_2x^{p-1} + b_3x^{p-2} + \dots + b_{n-1}x + b_n}$$

- ❖ Jika $m > p$, maka $\lim_{x \rightarrow \infty} f(x) = \infty$
- ❖ Jika $m < p$, maka $\lim_{x \rightarrow \infty} f(x) = 0$
- ❖ Jika $m = p$, maka $\lim_{x \rightarrow \infty} f(x) = \frac{a_1}{b_1}$



Wahh ternyata setelah kita simpulkan bersama, tampak mudah yaa pengerjaan limit dengan cara membagi dengan pangkat tertinggi, gak ribet dan gak pakai sulit. Pasti dapat langsung mengerjakannya dengan sekejap.

Menggunakan rumus umum di atas maka untuk mengerjakan soal berikut pasti mudah.

1. $\lim_{x \rightarrow \infty} \frac{3x^2 + 5x - 7}{10x^3 + 5x} = 0$ karena $m < p$
2. $\lim_{x \rightarrow \infty} \frac{(3x^2 - 4)^2}{6x^4 + 3x^2 - 5x + 1} = \frac{9}{6} = \frac{3}{2}$ karena $m = p$
3. $\lim_{x \rightarrow \infty} \frac{(2x - 1)^4}{(3x - 1)(5x^2 + x)} = \infty$ karena $m > p$

Merasionalkan

Pada bagian ini Anda akan diajak mengenang masa lalu saat Anda belajar merasionalkan penyebut di SMP, jangan ditinggalkan yaa kenangan masa lalu nya (hehehe), karena secara konsep masih sama dan berlaku dalam penyelesaian limit fungsi di ketakhinggaan ini. Mengapa harus dengan merasionalkan?? Dari namanya juga merasionalkan, maka kita bertujuan agar fungsi irasional yang diberikan dalam limit tak hingga tersebut dapat berubah menjadi rasional sehingga memudahkan dalam pengerjaan soalnya. Okay Anda perhatikan contoh soal berikut:

$$1. \lim_{x \rightarrow \infty} \sqrt{x^2 + 2x - 3} - \sqrt{x + 2} = \dots$$

Cara menyelesaikan soal ini, kita akan mengalikan dengan bentuk sekawan dari fungsi tersebut yakni $\frac{\sqrt{x^2+2x-3} + \sqrt{x+2}}{\sqrt{x^2+2x-3} + \sqrt{x+2}}$ (ingat kembali pelajaran merasionalkannya yaa...).

Penyelesaian:

$$\begin{aligned} \lim_{x \rightarrow \infty} \sqrt{x^2 + 2x - 3} - \sqrt{x + 2} &= \lim_{x \rightarrow \infty} \sqrt{x^2 + 2x - 3} - \sqrt{x + 2} \cdot \frac{\sqrt{x^2 + 2x - 3} + \sqrt{x + 2}}{\sqrt{x^2 + 2x - 3} + \sqrt{x + 2}} \\ &= \lim_{x \rightarrow \infty} (x^2 + 2x - 3 - (x + 2)) \cdot \frac{1}{\sqrt{x^2 + 2x - 3} + \sqrt{x + 2}} \end{aligned}$$

$$\begin{aligned}
 &= \lim_{x \rightarrow \infty} \frac{x^2 + x - 5}{\sqrt{x^2 + 2x - 3} + \sqrt{x + 2}} \\
 &= \lim_{x \rightarrow \infty} \frac{\frac{x^2}{x^2} + \frac{x}{x^2} - \frac{5}{x^2}}{\sqrt{\frac{x^2}{x^4} + \frac{2x}{x^4} - \frac{3}{x^4}} + \sqrt{\frac{x}{x^4} + \frac{2}{x^4}}} \\
 &= \lim_{x \rightarrow \infty} \frac{1 + \frac{1}{x} - \frac{5}{x^2}}{\sqrt{\frac{1}{x^2} + \frac{2}{x^3} - \frac{3}{x^4}} + \sqrt{\frac{1}{x^3} + \frac{2}{x^4}}} \\
 &= \frac{1 + 0 - 0}{\sqrt{0 + 0 - 0} + \sqrt{0 + 0}} = \frac{1}{0} = \infty
 \end{aligned}$$

2. $\lim_{x \rightarrow \infty} \sqrt{5x - 3} - \sqrt{x^2 + 7} = \dots$

Penyelesaian:

$$\begin{aligned}
 \lim_{x \rightarrow \infty} \sqrt{5x - 3} - \sqrt{x^2 + 7} &= \lim_{x \rightarrow \infty} \sqrt{5x - 3} - \sqrt{x^2 + 7} \cdot \frac{\sqrt{5x - 3} + \sqrt{x^2 + 7}}{\sqrt{5x - 3} + \sqrt{x^2 + 7}} \\
 &= \lim_{x \rightarrow \infty} \frac{5x - 3 - (x^2 + 7)}{\sqrt{5x - 3} + \sqrt{x^2 + 7}} \\
 &= \lim_{x \rightarrow \infty} \frac{\frac{5x}{x^2} - \frac{3}{x^2} - \frac{x^2}{x^2} - \frac{7}{x^2}}{\sqrt{\frac{5x}{x^4} - \frac{3}{x^4}} + \sqrt{\frac{x^2}{x^4} + \frac{7}{x^4}}} \\
 &= \lim_{x \rightarrow \infty} \frac{\frac{5}{x} - \frac{3}{x^2} - 1 - \frac{7}{x}}{\sqrt{\frac{5x}{x^3} - \frac{3}{x^4}} + \sqrt{\frac{1}{x^2} + \frac{7}{x^4}}} \\
 &= \frac{0 - 0 - 1 - 0}{\sqrt{0 - 0} + \sqrt{0 + 0}} = \frac{-1}{0} = -\infty
 \end{aligned}$$

3. $\lim_{x \rightarrow \infty} \sqrt{4x^2 - 4x + 5} - \sqrt{(2x + 1)^2} = \dots$

Penyelesaian :

$$\begin{aligned}
 \lim_{x \rightarrow \infty} \sqrt{4x^2 - 4x + 5} - \sqrt{(2x + 1)^2} &= \lim_{x \rightarrow \infty} \sqrt{4x^2 - 4x + 5} - \sqrt{4x^2 + 4x + 1} \\
 &= \lim_{x \rightarrow \infty} \sqrt{4x^2 - 4x + 5} - \sqrt{4x^2 + 4x + 1} \cdot \frac{\sqrt{4x^2 - 4x + 5} + \sqrt{4x^2 + 4x + 1}}{\sqrt{4x^2 - 4x + 5} + \sqrt{4x^2 + 4x + 1}} \\
 &= \lim_{x \rightarrow \infty} \frac{4x^2 - 4x + 5 - (4x^2 + 4x + 1)}{\sqrt{4x^2 - 4x + 5} + \sqrt{4x^2 + 4x + 1}} \\
 &= \lim_{x \rightarrow \infty} \frac{-8x + 4}{\sqrt{4x^2 - 4x + 5} + \sqrt{4x^2 + 4x + 1}} \\
 &= \lim_{x \rightarrow \infty} \frac{\frac{-8x}{x} + \frac{4}{x}}{\sqrt{\frac{4x^2}{x^2} - \frac{4x}{x^2} + \frac{5}{x^2}} + \sqrt{\frac{4x^2}{x^2} + \frac{4x}{x^2} + \frac{1}{x^2}}} \\
 &= \frac{-8 + 0}{\sqrt{4 - 0 + 0} + \sqrt{4 + 0 + 0}} = \frac{-8}{2 + 2} = \frac{-8}{4} = -2
 \end{aligned}$$

Bagaimana Anda setelah melihat ketiga contoh soal tersebut? Apakah merasa pusing? Hmm... tenang.. kita simak lagi yuk contohnya (Anda lihat soalnya lagi yaa..). Bentuk soal nomor 1 dan 2 adalah $\lim_{x \rightarrow \infty} \sqrt{f(x)} - \sqrt{g(x)}$. Perhatikan pangkat tertingginya deh.


Untuk soal nomor 1 pangkat tertinggi ada di $f(x)$ maka hasil limitnya sama dengan ∞ . Soal kedua pangkat tertinggi ada di $g(x)$ maka hasilnya sama dengan $-\infty$, sedangkan untuk soal nomor 3 baik $f(x)$ maupun $g(x)$ pangkatnya sama yaitu x^2 , dan hasilnya sama dengan -2 .

Jadi... yuk kita buat rumus umum untuk bentuk soal di atas secara singkat sebagai berikut:

Bentuk Umum 2

$$\lim_{x \rightarrow \infty} \sqrt{ax^2 + bx + c} - \sqrt{px^2 + qx + r} = \begin{cases} \frac{b-q}{2\sqrt{a}} & \text{jika } a = p \\ \infty & \text{jika } a > p \\ -\infty & \text{jika } a < p \end{cases}$$

dengan $a, b, c, p, q, r \in R$



Berdasarkan bentuk umum2 tentukan nilai limit di ketakhinggaan berikut.

1. $\lim_{x \rightarrow \infty} \left(\sqrt{2x^2 + 3x - 6} - \sqrt{2x^2 - x + 4} \right) = \frac{b-q}{2\sqrt{a}} = \frac{3-(-1)}{2\sqrt{2}} = \frac{2}{\sqrt{2}} = \sqrt{2}$
2. $\lim_{x \rightarrow \infty} \sqrt{3x^2 + 4x + 1} - \sqrt{(x-1)^2}$
 $= \lim_{x \rightarrow \infty} \sqrt{3x^2 + 4x + 1} - \sqrt{x^2 - 2x + 1} = \infty$ karena $a > p$
3. $\lim_{x \rightarrow \infty} (x+2) - \sqrt{2x^2 - 4x + 1}$
 $= \lim_{x \rightarrow \infty} \sqrt{(x+2)^2} - \sqrt{2x^2 - 4x + 1}$
 $= \lim_{x \rightarrow \infty} \sqrt{x^2 + 4x + 1} - \sqrt{2x^2 - 4x + 1}$
 $= -\infty$ karena $a < p$

Aplikasi Limit Fungsi di Ketakhinggaan Fungsi Aljabar

Bagaimana cara menyelesaikan masalah yang berhubungan dengan konsep limit fungsi di ketakhinggaan fungsi aljabar? untuk memahaminya pelajari contoh berikut.

Contoh

Beberapa ilmuwan sedang meneliti suatu senyawa. Senyawa ini merupakan hasil reaksi kimia dari beberapa senyawa. Setelah diteliti ternyata jumlah senyawa baru yang terbentuk mengikuti fungsi $f(t) = \frac{2t^2 + 3t + 4}{(3+2t)(t-1)}$, dengan $f(t)$ menyatakan jumlah senyawa dalam milligram dan t waktu dalam detik. Tentukan jumlah senyawa yang terbentuk untuk jangka waktu yang sangat lama adalah

Penyelesaian:

Waktu yang sangat lama artinya $t \rightarrow \infty$

$$f(t) = \frac{2t^2 + 3t + 4}{(3 + 2t)(t - 1)} = \frac{2t^2 + 3t + 4}{2t^2 + t - 3}$$

$$\lim_{t \rightarrow \infty} f(t) = \lim_{t \rightarrow \infty} \frac{2t^2 + 3t + 4}{2t^2 + t - 3} = 1$$

(karena pangkat tertinggi pembilang dan penyebut sama)

Jadi, senyawa yang terbentuk dalam waktu yang sangat lama adalah 1 miligram.

Asimtot Datar

Asimtot adalah suatu garis lurus yang didekati oleh lengkung dengan jarak semakin lama semakin kecil mendekati nol di tak hingga. Asimtot juga diartikan sebagai garis batas atau garis arah kelengkungan kurva dan ada pada domain tertentu. Asimtot datar adalah suatu garis yang mendekati nilai y tertentu tidak melewati atau menyinggungnya.

Garis $y = L$ disebut asimtot datar dari fungsi $f(x)$ jika memenuhi salah satu dari:

$$\lim_{x \rightarrow +\infty} f(x) = L \text{ atau } \lim_{x \rightarrow -\infty} f(x) = L$$

Contoh

Tentukan asimtot datar untuk fungsi fungsi tigonometri berikut.

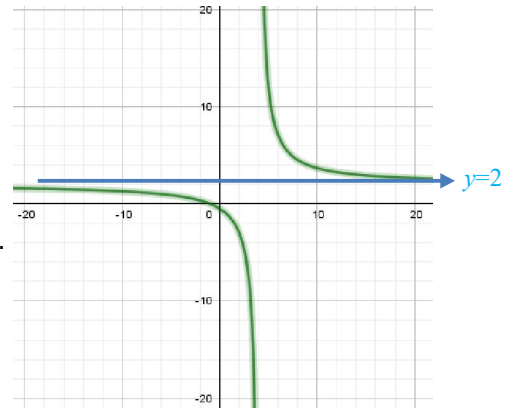
$$f(x) = \frac{2x+2}{x-4}$$

Penyelesaian:

Asimtot datar fungsi tersebut adalah:

$$y = \lim_{x \rightarrow \infty} \frac{2x+2}{x-4} = 2$$

Jadi, asimtot datar dari fungsi di atas adalah $y=2$.



C. Rangkuman

❖ $\lim_{x \rightarrow \infty} f(x) = L$ artinya limit $f(x)$ seraya x mendekati tak hingga, adalah L .

❖ $\lim_{x \rightarrow \infty} f(x) = \lim_{x \rightarrow \infty} \frac{a_1x^m + a_2x^{m-1} + a_3x^{m-2} + \dots + a_{n-1}x + a_n}{b_1x^p + b_2x^{p-1} + b_3x^{p-2} + \dots + b_{n-1}x + b_n}$;

➤ Jika $m > p$, maka $\lim_{x \rightarrow \infty} f(x) = \infty$

➤ Jika $m < p$, maka $\lim_{x \rightarrow \infty} f(x) = 0$

➤ Jika $m = p$, maka $\lim_{x \rightarrow \infty} f(x) = \frac{a_1}{b_1}$

❖ $\lim_{x \rightarrow \infty} \sqrt{ax^2 + bx + c} - \sqrt{px^2 + qx + r} = \begin{cases} \frac{b-q}{2\sqrt{a}} & \text{jika } a = p \\ \infty & \text{jika } a > p \\ -\infty & \text{jika } a < p \end{cases}$

❖ Asimtot adalah suatu garis lurus yang didekati oleh lengkung dengan jarak semakin lama semakin kecil mendekati nol di tak hingga.

❖ Asimtot datar adalah suatu garis yang mendekati nilai y tertentu tidak melewati atau menyinggungnya.

D. Latihan Soal

Kerjakan latihan soal berikut dengan jujur dan benar.

- Nilai $\lim_{x \rightarrow \infty} \frac{(3x-2)^3}{(4x+3)^3} = \dots$
 - 1
 - $\frac{27}{64}$
 - $\frac{8}{27}$
 - $-\frac{8}{27}$
 - $-\frac{27}{64}$
- Nilai dari $\lim_{x \rightarrow \infty} \frac{(2x-3x^3)(1+x)}{2x^4+5x^2-1} = \dots$
 - 0
 - 1
 - $\frac{3}{2}$
 - $-\frac{3}{2}$
 - 2
- Nilai $\lim_{x \rightarrow \infty} \left(\frac{3x}{9x^2+x+1} \right) = \dots$
 - 0
 - $\frac{1}{3}$
 - 1
 - 3
 - ∞
- Nilai $\lim_{x \rightarrow \infty} \left(\frac{4x^3-2x-x^2+6x^5+6}{3x^4-5-2x+2x^5} \right) = \dots$
 - ∞
 - 3
 - 2
 - 0
 - $-\infty$
- Nilai $\lim_{x \rightarrow 2} \frac{\sqrt{5x-1} - \sqrt{6x-3}}{x-2} = \dots$
 - $-\frac{1}{6}$
 - $-\frac{1}{9}$
 - 0
 - $\frac{1}{9}$
 - $\frac{1}{6}$
- Nilai $\lim_{x \rightarrow \infty} (\sqrt{5x+1} - \sqrt{3x+7}) = \dots$
 - 0
 - 2

- C. 6
- D. 8
- E. ∞

7. Nilai dari $\lim_{x \rightarrow \infty} \frac{\sqrt{5x+4} - \sqrt{3x+9}}{4x} = \dots$

- A. 0
- B. $\frac{1}{2}$
- C. 1
- D. 2
- E. 4

8. Nilai dari $\lim_{x \rightarrow \infty} \frac{\sqrt{x-4} - \sqrt{9x-1}}{\sqrt{4x+5} - \sqrt{x-7}} = \dots$

- A. 3
- B. 2
- C. 1
- D. -2
- E. -3

9. Diketahui $f(x) = x + \frac{x^2}{\sqrt{x^2 - 2x}}$, nilai dari $\lim_{x \rightarrow \infty} \left(\frac{f(x)}{x} \right) = \dots$

- A. -2
- B. 0
- C. 1
- D. 2
- E. ∞

10. Nilai dari $\lim_{x \rightarrow \infty} \left(\sqrt{4x^2 + 3x} - \sqrt{4x^2 - 5x} \right)$ adalah

- A. 0
- B. 1
- C. 2
- D. 4
- E. 8

Pembahasan Latihan Soal Kegiatan Pembelajaran 1

1. Penyelesaian

Jawab B

$$\lim_{x \rightarrow \infty} \frac{(3x-2)^3}{(4x+3)^3}$$

Untuk menyelesaikan soal ini, Ananda cukup mengangkat yang terdapat variabel x nya yaitu sebagai berikut:

$$\lim_{x \rightarrow \infty} \frac{(3x-2)^3}{(4x+3)^3} = \lim_{x \rightarrow \infty} \frac{(3x)^3}{(4x)^3} = \lim_{x \rightarrow \infty} \frac{27x^3}{64x^3} = \frac{27}{64}$$

2. Penyelesaian

Jawab D

$$\lim_{x \rightarrow \infty} \frac{(2x - 3x^3)(1 + x)}{2x^4 + 5x^2 - 1}$$

Agar lebih singkat pekerjaan cukup Ananda kalikan di bagian pembilang $-3x^3$ dengan x sehingga:

$$\begin{aligned} \lim_{x \rightarrow \infty} \frac{(2x - 3x^3)(1 + x)}{2x^4 + 5x^2 - 1} \\ = \lim_{x \rightarrow \infty} \frac{(-3x^3)(x)}{2x^4 + 5x^2 - 1} = \lim_{x \rightarrow \infty} \frac{-3x^4}{2x^4 + 5x^2 - 1} = -\frac{3}{2} \end{aligned}$$

3. Penyelesaian

Jawab A

$$\lim_{x \rightarrow \infty} \frac{3x}{9x^2 + x + 1} =$$

Soal ini dapat Ananda langsung jawab dengan menggunakan konsep di atas ya. Jika dilihat pangkat tertinggi dari fungsi limit tersebut berada di bagian penyebut, maka nilai limit fungsinya adalah 0.

4. Penyelesaian

Jawab B

$$\lim_{x \rightarrow \infty} \frac{4x^3 - 2x - x^2 + 6x^5 + 6}{3x^4 - 5 - 2x + 2x^5}$$

Ananda lihat bahwa pangkat bagian pembilang dan penyebut sama yaitu pangkat 5, oleh karena itu nilai dari limit fungsi ini adalah $\frac{6}{2} = 3$

5. Penyelesaian

Jawab A

$$\lim_{x \rightarrow 2} \frac{\sqrt{5x-1} - \sqrt{6x-3}}{x-2}$$

Jika kita substitusikan nilai $x = 2$ ke fungsi limit akan menghasilkan bentuk tak tentu, oleh karena itu kita rasionalkan bagian pembilang sehingga diperoleh:

$$\begin{aligned} \lim_{x \rightarrow 2} \frac{\sqrt{5x-1} - \sqrt{6x-3}}{x-2} &= \frac{\sqrt{5x-1} + \sqrt{6x-3}}{\sqrt{5x-1} + \sqrt{6x-3}} \\ &= \frac{5x-1 - (6x-3)}{(x-2)(\sqrt{5x-1} + \sqrt{6x-3})} \\ &= \frac{-x+2}{(x-2)(\sqrt{5x-1} + \sqrt{6x-3})} \\ &= \frac{-1}{(x-2)(\sqrt{5x-1} + \sqrt{6x-3})} \\ \lim_{x \rightarrow 2} \frac{-1}{(\sqrt{5x-1} + \sqrt{6x-3})} &= \frac{-1}{(\sqrt{5(2)-1} + \sqrt{6(2)-3})} \\ &= \frac{-1}{(\sqrt{10-1} + \sqrt{12-3})} = \frac{-1}{\sqrt{9} + \sqrt{9}} = \frac{-1}{3+3} = \frac{-1}{6} \end{aligned}$$

6. Penyelesaian

Jawab E

$\lim_{x \rightarrow \infty} (\sqrt{5x+1} - \sqrt{3x+7})$ kita kalikan dengan sekawan, diperoleh:

$$\begin{aligned} \lim_{x \rightarrow \infty} (\sqrt{5x+1} - \sqrt{3x+7}) &= \frac{\sqrt{5x+1} + \sqrt{3x+7}}{\sqrt{5x+1} + \sqrt{3x+7}} \\ &= \frac{5x+1 - 3x-7}{2x-6} = \lim_{x \rightarrow \infty} \frac{2x-6}{2x-6} = \infty \end{aligned}$$

Soal bentuk ini dapat langsung dijawab oleh Ananda dengan melihat rumus:

$\lim_{x \rightarrow \infty} (\sqrt{ax+b} - \sqrt{cx+d})$ jika $a > c$ maka nilai fungsi tersebut adalah ∞

7. Penyelesaian

Jawab A

Ananda dapat langsung menjawab soal ini dengan melihat pangkat tertingginya. Soal ini mempunyai pangkat tertinggi ada di bagian penyebut, sehingga soal ini nilainya adalah 0.

8. Penyelesaian

Jawab D

$\lim_{x \rightarrow \infty} \frac{\sqrt{x-4} - \sqrt{9x-1}}{\sqrt{4x+5} - \sqrt{x-7}}$
semua unsur kita bagi dengan x , sehingga didapat:

$$\begin{aligned} \lim_{x \rightarrow \infty} \frac{\sqrt{x-4} - \sqrt{9x-1}}{\sqrt{4x+5} - \sqrt{x-7}} &= \lim_{x \rightarrow \infty} \frac{\sqrt{\frac{x}{x} - \frac{4}{x}} - \sqrt{\frac{9x}{x} - \frac{1}{x}}}{\sqrt{\frac{4x}{x} + \frac{5}{x}} - \sqrt{\frac{x}{x} - \frac{7}{x}}} \\ &= \lim_{x \rightarrow \infty} \frac{\sqrt{1-0} - \sqrt{9-0}}{\sqrt{4+0} - \sqrt{1-0}} \\ &= \frac{1-3}{2-1} = -2 \end{aligned}$$

9. Penyelesaian

Jawab D

$$\begin{aligned}
 & \lim_{x \rightarrow \infty} \frac{x + \frac{x^2}{\sqrt{x^2 - 2x}}}{\frac{x}{\sqrt{x^2 - 2x}} + \frac{x^2}{\sqrt{x^2 - 2x}}} \\
 & \lim_{x \rightarrow \infty} \frac{\cancel{x}(\sqrt{x^2 - 2x} + x) + \frac{x^2}{\sqrt{x^2 - 2x}}}{x(\sqrt{x^2 - 2x} + x)(\sqrt{x^2 - 2x})} \\
 & \lim_{x \rightarrow \infty} \frac{x}{x^2 - 2x} \\
 & \lim_{x \rightarrow \infty} \frac{x}{(\sqrt{x^2 - 2x} + x)(\sqrt{x^2 - 2x})} \\
 & \lim_{x \rightarrow \infty} \frac{(x^2 - 2x) + x(\sqrt{x^2 - 2x})}{x^2 - 2x} \\
 & \lim_{x \rightarrow \infty} 1 + \lim_{x \rightarrow \infty} \frac{x(\sqrt{x^2 - 2x})}{x(x - 2)} \\
 & 1 + \lim_{x \rightarrow \infty} \frac{\sqrt{\frac{x^2 - 2x}{x^2}}}{\frac{x - 2}{x}} \\
 & 1 + \lim_{x \rightarrow \infty} \frac{\sqrt{1 - 0}}{1 - 0} = 1 + 1 = 2
 \end{aligned}$$

10. Penyelesaian

Jawab C

Dengan menggunakan rumus $\frac{b-q}{2\sqrt{a}}$

Diperoleh nilai limit tersebut sama dengan

$$\frac{3 - (-5)}{2\sqrt{4}} = \frac{8}{2(2)} = 2$$

E. Penilaian Diri

Anda isilah pertanyaan pada tabel di bawah ini sesuai dengan yang Anda ketahui, berilah penilaian secara jujur, objektif, dan penuh tanggung jawab dengan memberi tanda centang pada kolom pilihan.

No.	Pertanyaan	Jawaban	
		Ya	Tidak
1.	Apakah Anda mampu menentukan limit di ketakhinggaan aljabar dengan substitusi ?		
2.	Apakah Anda mampu menentukan limit di ketakhinggaan aljabar dengan membagi pangkat tertinggi ?		
3.	Apakah Anda mampu menentukan limit di ketakhinggaan aljabar dengan merasionalkan ?		
4.	Apakah anda telah mampu menggunakan limit di ketakhinggaan fungsi trigonometri dalam masalah kontekstual.		
5.	Apakah anda telah mampu menentukan asimtot datar?		

Catatan:

Bila ada jawaban "Tidak", maka segera lakukan review pembelajaran.

Bila semua jawaban "Ya", maka Anda dapat melanjutkan ke pembelajaran berikutnya.

KEGIATAN PEMBELAJARAN 2

Limit di Ketakhinggaan Fungsi Trigonometri

A. Tujuan Pembelajaran

Setelah kegiatan pembelajaran 2 ini, diharapkan Anda dapat menjelaskan dan menentukan limit di ketakhinggaan fungsi trigonometri serta dapat menyelesaikan masalah berkaitan dengan eksistensi limit di ketakhinggaan fungsi trigonometri.

B. Uraian Materi

Pada kegiatan pembelajaran 2 ini kita akan membahas Limit Tak Hingga Fungsi Trigonometri. Materi Limit Tak Hingga Fungsi Trigonometri merupakan gabungan bentuk limit di ketakhinggaan dan limit fungsi trigonometri. Jika kita perdalam lagi, ternyata bentuk Limit Tak Hingga Fungsi Trigonometri lebih menekankan pada limit fungsi trigonometrinya, sehingga Anda harus benar-benar menguasai materi limit fungsi trigonometri pada modul sebelumnya.

Bentuk tak hingga (∞) jika sebagai sudut suatu fungsi trigonometri maka tidak bisa ditentukan nilainya misal $\sin(\infty)$, $\cos(\infty)$, $\tan(\infty)$ tidak bisa ditentukan nilainya karena nilai $\sin x$ berkisar $-1 \leq \sin x \leq 1$, begitu juga nilai $\cos x$ berkisar $-1 \leq \cos x \leq 1$, dan untuk $\tan x$ berkisar $-\infty \leq \tan x \leq \infty$, tentu dengan x yang sudah pasti. Nah untuk memudahkan, maka bentuk yang digunakan adalah $\frac{1}{\infty} \approx 0$, sehingga nilai fungsi trigonometrinya bisa kita hitung yaitu $\sin \frac{1}{\infty} = 0$, $\cos \frac{1}{\infty} = 1$, $\tan \frac{1}{\infty} = 0$. Dan bentuk ini cocok dengan limit fungsi trigonometri yang akan di bahas dalam kegiatan belajar ini.

Limit fungsi trigonometri yang sudah dipelajari pada modul sebelumnya dan identitas trigonometri materi prasyarat untuk memahami konsep limit di ketakhinggaan fungsi trigonometri.



Mengingat Kembali

Rumus dasar limit fungsi trigonometri yang diperumum adalah:

$$1. \lim_{x \rightarrow 0} \frac{\sin ax}{bx} = \frac{a}{b}$$

$$2. \lim_{x \rightarrow 0} \frac{ax}{\sin bx} = \frac{a}{b}$$

$$3. \lim_{x \rightarrow 0} \frac{\tan ax}{bx} = \frac{a}{b}$$

$$4. \lim_{x \rightarrow 0} \frac{ax}{\tan bx} = \frac{a}{b}$$

$$5. \lim_{x \rightarrow 0} \frac{\tan ax}{\tan bx} = \frac{a}{b}$$

$$6. \lim_{x \rightarrow 0} \frac{\sin ax}{bx} = \frac{a}{b}$$

$$7. \lim_{x \rightarrow 0} \frac{\tan ax}{\sin bx} = \frac{a}{b}$$

$$8. \lim_{x \rightarrow 0} \frac{\sin ax}{\tan bx} = \frac{a}{b}$$

$$9. \lim_{x \rightarrow \infty} \frac{1}{x^r} = 0$$



Rumus Trigonometri

- $\cos x - \cos y = -2 \sin \frac{1}{2}(x+y) \sin \frac{1}{2}(x-y)$
- $1 - \cos ax = 2 \sin^2 \frac{1}{2}(ax)$
- $\sin^2 x + \cos^2 x = 1$

Langkah-langkah menentukan limit di ketakhinggaan fungsi trigonometri.

4. Lakukan pemisalan $y = \frac{1}{x}$.
5. Substitusikan $y = \frac{1}{x}$ ke persamaan awal
6. Selesaikan dengan rumus dasar limit fungsi trigonometri.
7. Tentukan hasil limitnya.

Agar Anda lebih memahami modul ini, pelajari beberapa contoh soal dari limit di ketakhinggaan fungsi trigonometri.

Contoh 1

Tentukan limit di ketakhinggaan fungsi trigonometri berikut.

1. $\lim_{x \rightarrow \infty} x \sin \left(\frac{2}{x} \right)$
2. $\lim_{x \rightarrow \infty} \tan \frac{5}{x} \csc \frac{2}{x}$
3. $\lim_{x \rightarrow \infty} \frac{5 \tan \frac{3}{x}}{x \left(1 - \cos \frac{6}{x} \right)}$
4. $\lim_{x \rightarrow \infty} \frac{\cos^2 \frac{6}{x} - 1}{\sin \frac{3}{x} \tan \frac{2}{x}}$
5. $\lim_{x \rightarrow \infty} \frac{x \left(\cos \frac{3}{x} - \cos \frac{1}{x} \right)}{\sin \frac{2}{x}}$

Penyelesaian:

1. $\lim_{x \rightarrow \infty} x \sin \left(\frac{2}{x} \right)$
 - ❖ Misalkan $y = \frac{1}{x} \Rightarrow x = \frac{1}{y}$
 - Ketika $x \rightarrow \infty$ maka $\frac{1}{x} \rightarrow 0$ atau $y \rightarrow 0$
$$\begin{aligned} \lim_{x \rightarrow \infty} x \sin \left(\frac{2}{x} \right) &= \lim_{\frac{1}{x} \rightarrow 0} \frac{1}{\frac{1}{x}} \sin \left(\frac{2}{x} \right) \\ &= \lim_{y \rightarrow 0} \frac{1}{y} \sin(2y) \\ &= \lim_{y \rightarrow 0} \frac{\sin 2y}{y} \\ &= 2 \end{aligned}$$
2. $\lim_{x \rightarrow \infty} \tan \frac{5}{x} \csc \frac{2}{x}$
 - ❖ Misalkan $y = \frac{1}{x} \Rightarrow x = \frac{1}{y}$
 - Ketika $x \rightarrow \infty$ maka $\frac{1}{x} \rightarrow 0$ atau $y \rightarrow 0$

$$\begin{aligned}\lim_{x \rightarrow \infty} \tan \frac{5}{x} \csc \frac{2}{x} &= \lim_{\frac{1}{x} \rightarrow 0} \tan 5 \cdot \frac{1}{x} \csc 2 \cdot \frac{1}{x} \\ &= \lim_{y \rightarrow 0} \tan 5y \csc 2y \\ &= \lim_{y \rightarrow 0} \frac{\tan 5y}{\sin 2y} \\ &= \frac{5}{2}\end{aligned}$$

$$3. \lim_{x \rightarrow \infty} \frac{5 \tan \frac{3}{x}}{x \left(1 - \cos \frac{6}{x}\right)}$$

$$\diamond \text{ Misalkan } y = \frac{1}{x} \Rightarrow x = \frac{1}{y}$$

Ketika $x \rightarrow \infty$ maka $\frac{1}{x} \rightarrow 0$ atau $y \rightarrow 0$

$$\begin{aligned}\lim_{x \rightarrow \infty} \frac{5 \tan \frac{3}{x}}{x \left(1 - \cos \frac{6}{x}\right)} &= \lim_{\frac{1}{x} \rightarrow 0} \frac{1}{x} \frac{5 \tan \frac{3}{x}}{\left(2 \sin^2 \frac{3}{x}\right)} \\ &= \lim_{y \rightarrow 0} y \frac{5 \tan 3y}{\left(2 \sin^2 3y\right)} \\ &= \lim_{y \rightarrow 0} \frac{5}{2} \frac{y}{\sin 3y} \frac{\tan 3y}{\sin 3y} \\ &= \frac{5}{2} \frac{1}{3} \frac{3}{3} \\ &= \frac{5}{6}\end{aligned}$$

$$4. \lim_{x \rightarrow \infty} \frac{\cos^2 \frac{6}{x} - 1}{\sin \frac{3}{x} \tan \frac{2}{x}}$$

$$\diamond \text{ Misalkan } y = \frac{1}{x} \Rightarrow x = \frac{1}{y}$$

Ketika $x \rightarrow \infty$ maka $\frac{1}{x} \rightarrow 0$ atau $y \rightarrow 0$

$$\begin{aligned}\lim_{x \rightarrow \infty} \frac{\cos^2 \frac{6}{x} - 1}{\sin \frac{3}{x} \tan \frac{2}{x}} &= \lim_{\frac{1}{x} \rightarrow 0} \frac{\cos^2 \frac{6}{x} - 1}{\sin \frac{3}{x} \tan \frac{2}{x}} \\ &= \lim_{y \rightarrow 0} \frac{\cos^2 6y - 1}{\sin 3y \tan 2y} \\ &= \lim_{y \rightarrow 0} \frac{-\sin^2 6y}{\sin 3y \tan 2y} \\ &= \lim_{y \rightarrow 0} \frac{-\sin 6y \sin 6y}{\sin 3y \tan 2y} \\ &= -\frac{6}{3} \cdot \frac{6}{2} \\ &= -6\end{aligned}$$

$$5. \lim_{x \rightarrow \infty} \frac{x \left(\cos \frac{3}{x} - \cos \frac{1}{x}\right)}{\sin \frac{2}{x}}$$

$$\diamond \text{ Misalkan } y = \frac{1}{x} \Rightarrow x = \frac{1}{y}$$

Ketika $x \rightarrow \infty$ maka $\frac{1}{x} \rightarrow 0$ atau $y \rightarrow 0$

$$\lim_{x \rightarrow \infty} \frac{x \left(\cos \frac{3}{x} - \cos \frac{1}{x}\right)}{\sin \frac{2}{x}} = \lim_{\frac{1}{x} \rightarrow 0} \frac{1}{x} \frac{\left(\cos \frac{3}{x} - \cos \frac{1}{x}\right)}{\sin \frac{2}{x}}$$

$$\begin{aligned}
&= \lim_{y \rightarrow 0} \frac{\cos 3y - \cos y}{y \sin 2y} \\
&= \lim_{y \rightarrow 0} \frac{-2 \sin 2y \sin y}{y \sin 2y} \\
&= \lim_{y \rightarrow 0} -2 \frac{\sin 2y \sin y}{y \sin 2y} \\
&= (-2)(2) \left(\frac{1}{2}\right) \\
&= -2
\end{aligned}$$

Aplikasi Limit Fungsi di Ketakhinggaan Fungsi Trigonometri

Bagaimana cara menyelesaikan masalah yang berhubungan dengan konsep limit fungsi di ketakhinggaan fungsi trigonometri? untuk memahaminya pelajari contoh berikut.

Contoh 2

Jumlah pertumbuhan penduduk suatu kota diperkirakan t tahun dari sekarang akan menjadi $N(t) = 35.000 + t \sin \frac{40.000}{t}$

Tentukan pertumbuhan jumlah penduduk kota tersebut dalam jangka waktu yang sangat lama di masa depan.

Penyelesaian:

Waktu yang sangat lama artinya $t \rightarrow \infty$

$$\begin{aligned}
N(t) &= 35.000 + t \sin \frac{40.000}{t} \\
\lim_{t \rightarrow \infty} N(t) &= \lim_{t \rightarrow \infty} 35.000 + t \sin \frac{40.000}{t}
\end{aligned}$$

❖ Misalkan $y = \frac{1}{t} \Rightarrow t = \frac{1}{y}$
Ketika $t \rightarrow \infty$ maka $\frac{1}{t} \rightarrow 0$ atau $y \rightarrow 0$

$$\begin{aligned}
\lim_{t \rightarrow \infty} N(t) &= \lim_{t \rightarrow \infty} 35.000 + t \sin \frac{40.000}{t} \\
&= \lim_{t \rightarrow \infty} 35.000 + \lim_{t \rightarrow \infty} t \sin \frac{40.000}{t} \\
&= 35.000 + \lim_{\frac{1}{t} \rightarrow 0} \frac{1}{\frac{1}{t}} \sin \frac{40.000}{t} \\
&= 35.000 + \frac{\sin 40.000 y}{y} \\
&= 35.000 + 40.000 \\
&= 75.000
\end{aligned}$$

Jadi, pertumbuhan jumlah penduduk kota tersebut dalam jangka waktu yang sangat lama di masa depan adalah 75.000.

Asimtot Datar

Asimtot adalah suatu garis lurus yang didekati oleh lengkung dengan jarak semakin lama semakin kecil mendekati nol di tak hingga. Asimtot juga diartikan sebagai garis batas atau garis arah kelengkungan kurva dan ada pada domain tertentu. Asimtot

datar adalah suatu garis yang mendekati nilai y tertentu tidak melewati atau menyinggungnya.

Garis $y = L$ disebut asimtot datar dari fungsi $f(x)$ jika memenuhi salah satu dari:

$$\lim_{x \rightarrow +\infty} f(x) = L \text{ atau } \lim_{x \rightarrow -\infty} f(x) = L$$

Contoh 3

Tentukan asimtot datar untuk fungsi fungsi tigonometri berikut.

$$f(x) = x \tan\left(\frac{1}{x}\right)$$

Penyelesaian:

Asimtot datar fungsi tersebut adalah:

$$\begin{aligned} y &= \lim_{x \rightarrow \infty} x \tan\left(\frac{1}{x}\right) \\ \text{❖ Misalkan } z &= \frac{1}{x} \Rightarrow x = \frac{1}{z} \\ \text{Ketika } x &\rightarrow \infty \text{ maka } \frac{1}{x} \rightarrow 0 \text{ atau } z \rightarrow 0 \\ y &= \lim_{x \rightarrow \infty} x \tan\left(\frac{1}{x}\right) = \lim_{\frac{1}{x} \rightarrow 0} \frac{1}{\frac{1}{x}} \tan\left(\frac{1}{x}\right) \\ &= \lim_{z \rightarrow 0} \frac{1}{z} \sin(z) \\ &= \lim_{z \rightarrow 0} \frac{\sin z}{z} \\ &= 1 \end{aligned}$$

Jadi, asimtot datar dari fungsi di atas adalah $y=1$.

C. Rangkuman

- ❖ Langkah-langkah menentukan limit di ketakhinggaan fungsi trigonometri.
 - Lakukan pemisalan $y = \frac{1}{x}$.
 - Substitusikan $y = \frac{1}{x}$ ke persamaan awal
 - Selesaikan dengan rumus dasar limit fungsi trigonometri.
 - Tentukan hasil limitnya.
- ❖ Asimtot adalah suatu garis lurus yang didekati oleh lengkung dengan jarak semakin lama semakin kecil mendekati nol di tak hingga.
- ❖ Asimtot datar adalah suatu garis yang mendekati nilai y tertentu tidak melewati atau menyinggungnya.

D. Latihan Soal

Kerjakan latihan soal berikut dengan jujur dan benar.

Tentukan limit di ketakhinggaan fungsi tigonometri berikut.

1. $\lim_{x \rightarrow \infty} \frac{2}{x} \cot\left(\frac{1}{x}\right)$

$$2. \lim_{x \rightarrow \infty} \sqrt{6x} \cos \frac{3}{\sqrt{x}} \sin \frac{5}{\sqrt{x}}$$

$$3. \lim_{x \rightarrow \infty} \left(\frac{x - x \cos \frac{6}{x}}{\tan \frac{3}{x}} \right)$$

$$4. \lim_{x \rightarrow \infty} x \left(\frac{1 - \cos^2 \left(\frac{2}{x} \right)}{\sin \frac{4}{x}} \right)$$

$$5. \lim_{x \rightarrow \infty} \frac{(\sin \frac{4}{x} - \sin \frac{2}{x})}{\sin \frac{2}{x}}$$

6. Kenaikan jumlah bakteri setiap jamnya pada makanan jatuh dinyatakan dalam fungsi $B(x) = x \left(\sin \frac{4}{x} + \tan \frac{3}{x} \right)$, dengan x lama waktu makanan jatuh. Mula-mula jumlah bakteri pada makanan tersebut hanya 50 bakteri. Tentukan jumlah bakteri pada makan tersebut ketika makanan tersebut tidak pernah diambil.
7. Tentukan asimtot datar untuk fungsi fungsi trigonometri berikut.

$$f(x) = \frac{2}{x \tan \frac{1}{x}}$$

Penyelesaian:

Waktu yang sangat lama artinya $t \rightarrow \infty$

$$N(t) = 35.000 + t \sin \frac{40.000}{t}$$

$$\lim_{t \rightarrow \infty} N(t) = \lim_{t \rightarrow \infty} 35.000 + t \sin \frac{40.000}{t}$$

❖ Misalkan $y = \frac{1}{t} \Rightarrow t = \frac{1}{y}$

Ketika $t \rightarrow \infty$ maka $\frac{1}{t} \rightarrow 0$ atau $y \rightarrow 0$

$$\begin{aligned} \lim_{t \rightarrow \infty} N(t) &= \lim_{t \rightarrow \infty} 35.000 + t \sin \frac{40.000}{t} \\ &= \lim_{t \rightarrow \infty} 35.000 + \lim_{t \rightarrow \infty} t \sin \frac{40.000}{t} \\ &= 35.000 + \lim_{\frac{1}{t} \rightarrow 0} \frac{1}{\frac{1}{t}} \sin \frac{40.000}{\frac{1}{t}} \\ &= 35.000 + \frac{\sin 40.000 y}{y} \\ &= 35.000 + 40.000 \\ &= 75.000 \end{aligned}$$

Jadi, pertumbuhan jumlah penduduk kota tersebut dalam jangka waktu yang sangat lama di masa depan adalah 75.000.

Pembahasan Latihan Soal Kegiatan Pembelajaran 2

1. $\lim_{x \rightarrow \infty} \frac{2}{x} \cot\left(\frac{1}{x}\right)$

❖ Misalkan $y = \frac{1}{x} \Rightarrow x = \frac{1}{y}$

Ketika $x \rightarrow \infty$ maka $\frac{1}{x} \rightarrow 0$ atau $y \rightarrow 0$

$$\begin{aligned} \lim_{x \rightarrow \infty} \frac{2}{x} \cot\left(\frac{1}{x}\right) &= \lim_{\frac{1}{x} \rightarrow 0} \frac{2}{x} \cot\left(\frac{1}{x}\right) \\ &= \lim_{y \rightarrow 0} 2y \cot y \\ &= \lim_{y \rightarrow 0} \frac{2y}{\tan y} \\ &= 2 \end{aligned}$$

(skor 10)

2. $\lim_{x \rightarrow \infty} \sqrt{6x} \cos \frac{3}{\sqrt{x}} \sin \frac{5}{\sqrt{x}}$

❖ Misalkan $y = \frac{1}{\sqrt{x}} \Rightarrow \sqrt{x} = \frac{1}{y}$

Ketika $x \rightarrow \infty$ maka $\frac{1}{\sqrt{x}} \rightarrow 0$ atau $y \rightarrow 0$

$$\begin{aligned} \lim_{x \rightarrow \infty} \sqrt{6x} \cos \frac{3}{\sqrt{x}} \sin \frac{5}{\sqrt{x}} &= \lim_{\frac{1}{\sqrt{x}} \rightarrow 0} \sqrt{6} \frac{1}{\frac{1}{\sqrt{x}}} \cos \frac{3}{\frac{1}{\sqrt{x}}} \sin \frac{5}{\frac{1}{\sqrt{x}}} \\ &= \lim_{y \rightarrow 0} \sqrt{6} \frac{1}{y} \cos 3y \sin 5y \\ &= \lim_{y \rightarrow 0} \sqrt{6} \cos 3y \frac{\sin 5y}{y} \\ &= \sqrt{6} (1)(5) \\ &= 5\sqrt{6} \end{aligned}$$

(skor 15)

3. $\lim_{x \rightarrow \infty} \left(\frac{x - x \cos \frac{6}{x}}{\tan \frac{3}{x}} \right)$

❖ Misalkan $y = \frac{1}{x} \Rightarrow x = \frac{1}{y}$

Ketika $x \rightarrow \infty$ maka $\frac{1}{x} \rightarrow 0$ atau $y \rightarrow 0$

$$\begin{aligned} \lim_{x \rightarrow \infty} \left(\frac{x - x \cos \frac{6}{x}}{\tan \frac{3}{x}} \right) &= \lim_{\frac{1}{x} \rightarrow 0} x \left(\frac{1 - \cos \frac{6}{x}}{\tan \frac{3}{x}} \right) \\ &= \lim_{\frac{1}{x} \rightarrow 0} \frac{1}{\frac{1}{x}} \left(\frac{1 - \cos \frac{6}{x}}{\tan \frac{3}{x}} \right) \\ &= \lim_{y \rightarrow 0} \frac{1}{y} \left(\frac{1 - \cos 6y}{\tan 3y} \right) \\ &= \lim_{y \rightarrow 0} \frac{2 \sin^2 3y}{y \tan 3y} \\ &= \lim_{y \rightarrow 0} \frac{2 \sin 3y \sin 3y}{y \tan 3y} \\ &= 2(3)(1) \\ &= 6 \end{aligned}$$

(skor 15)

$$4. \lim_{x \rightarrow \infty} x \left(\frac{1 - \cos^2 \left(\frac{2}{x} \right)}{\sin^4 \frac{1}{x}} \right)$$

❖ Misalkan $y = \frac{1}{x} \Rightarrow x = \frac{1}{y}$

Ketika $x \rightarrow \infty$ maka $\frac{1}{x} \rightarrow 0$ atau $y \rightarrow 0$

$$\begin{aligned} \lim_{x \rightarrow \infty} x \left(\frac{1 - \cos^2 \left(\frac{2}{x} \right)}{\sin^4 \frac{1}{x}} \right) &= \lim_{\frac{1}{x} \rightarrow 0} \frac{1}{\frac{1}{x}} \left(\frac{1 - \cos^2 \left(\frac{2}{x} \right)}{\sin^4 \frac{1}{x}} \right) \\ &= \lim_{y \rightarrow 0} \frac{1}{\frac{1}{x}} \left(\frac{1 - \cos^2 \left(\frac{2}{x} \right)}{\sin^4 \frac{1}{x}} \right) \\ &= \lim_{y \rightarrow 0} \frac{\sin^2 2y}{y \sin 4y} \\ &= \lim_{y \rightarrow 0} \frac{\sin 2y \sin 2y}{y \sin 4y} \\ &= 2 \left(\frac{2}{4} \right) \\ &= 1 \end{aligned}$$

(skor 15)

$$5. \lim_{x \rightarrow \infty} \frac{(\sin \frac{4}{x} - \sin \frac{2}{x})}{\sin^2 \frac{1}{x}}$$

❖ Misalkan $y = \frac{1}{x} \Rightarrow x = \frac{1}{y}$

Ketika $x \rightarrow \infty$ maka $\frac{1}{x} \rightarrow 0$ atau $y \rightarrow 0$

$$\begin{aligned} \lim_{x \rightarrow \infty} \frac{(\sin \frac{4}{x} - \sin \frac{2}{x})}{\sin^2 \frac{1}{x}} &= \lim_{\frac{1}{x} \rightarrow 0} \frac{(\sin \frac{4}{x} - \sin \frac{2}{x})}{\sin^2 \frac{1}{x}} \\ &= \lim_{y \rightarrow 0} \frac{\sin 4y - \sin 2y}{\sin^2 2y} \\ &= \lim_{y \rightarrow 0} \frac{\sin 4y}{\sin 2y} - \frac{\sin 2y}{\sin 2y} \\ &= 2 - 1 \\ &= 1 \end{aligned}$$

(skor 15)

6. Kenaikan jumlah bakteri setiap jamnya pada makanan jatuh dinyatakan dalam fungsi $B(x) = x \left(\sin \frac{4}{x} + \tan \frac{3}{x} \right)$, dengan x lama waktu makanan jatuh. Mula-mula jumlah bakteri pada makanan tersebut hanya 50 bakteri. Tentukan jumlah bakteri pada makan tersebut ketika makanan tersebut tidak pernah diambil.

Penyelesaian:

Karena makanan tidak pernah diambil (waktu yang sangat lama artinya $t \rightarrow \infty$), maka kenaikan jumlah bakteri dapat diselesaikan dengan cara berikut.

$$\lim_{x \rightarrow \infty} B(x) = \lim_{x \rightarrow \infty} 35.000 + t \sin \frac{40.000}{t}$$

❖ Misalkan $y = \frac{1}{x} \Rightarrow t = \frac{1}{x}$

Ketika $x \rightarrow \infty$ maka $\frac{1}{x} \rightarrow 0$ atau $y \rightarrow 0$

$$\begin{aligned}
 \lim_{x \rightarrow \infty} B(x) &= \lim_{x \rightarrow \infty} x \left(\sin \frac{4}{x} + \tan \frac{3}{x} \right) \\
 &= \lim_{\frac{1}{x} \rightarrow 0} \frac{1}{\frac{1}{x}} \left(\sin \frac{4}{x} + \tan \frac{3}{x} \right) \\
 &= \lim_{y \rightarrow 0} \frac{\sin 4y}{y} + \frac{\tan \frac{3}{x}}{\frac{1}{x}} \\
 &= 4 + 3 \\
 &= 7
 \end{aligned}$$

Jadi, jumlah bakteri yang terdapat pada makanan jatuh tersebut ketika tidak pernah diambil adalah:

$$\text{Bakteri} = 50 + 7(5) = 400.$$

(skor 15)

7. Tentukan asimtot datar untuk fungsi fungsi tigonometri berikut.

$$f(x) = \frac{2}{x \tan \frac{1}{x}}$$

Penyelesaian:

Asimtot datar fungsi tersebut adalah:

$$y = \lim_{x \rightarrow \infty} \frac{2}{x \tan \frac{1}{x}}$$

$$\text{❖ Misalkan } z = \frac{1}{x} \Rightarrow x = \frac{1}{z}$$

Ketika $x \rightarrow \infty$ maka $\frac{1}{x} \rightarrow 0$ atau $z \rightarrow 0$

$$\begin{aligned}
 y &= \lim_{x \rightarrow \infty} \frac{2}{x \tan \frac{1}{x}} = \lim_{\frac{1}{x} \rightarrow 0} \frac{\frac{2}{x}}{\tan \frac{1}{x}} \\
 &= \lim_{z \rightarrow 0} \frac{2z}{\tan z} \\
 &= 2
 \end{aligned}$$

Jadi, asimtot datar dari fungsi di atas adalah $y = 2$.

(skor 15)

E. Penilaian Diri

Anda isilah pertanyaan pada tabel di bawah ini sesuai dengan yang Anda ketahui, berilah penilaian secara jujur, objektif, dan penuh tanggung jawab dengan memberi tanda centang pada kolom pilihan.

No.	Pertanyaan	Jawaban	
		Ya	Tidak
1.	Apakah Anda telah memahami limit fungsi trigonometri.		
2.	Apakah Anda telah mampu menentukan limit di ketakhinggaan fungsi trigonometri.		
3.	Apakah anda telah mampu menggunakan limit di ketakhinggaan fungsi trigonometri dalam masalah kontekstual.		
4.	Apakah anda telah mampu menentukan asimtot datar?		

Catatan:

Bila ada jawaban "Tidak", maka segera lakukan review pembelajaran.

Bila semua jawaban "Ya", maka Anda dapat melanjutkan ke pembelajaran berikutnya.

EVALUASI

Pilihlah satu jawaban yang paling tepat.

1. Nilai dari $\lim_{x \rightarrow \infty} \frac{3x^2 - 6x + 8}{4x^2 + 5x - 7} = \dots$

- A. $-\frac{3}{4}$
- B. $-\frac{6}{5}$
- C. $\frac{3}{4}$
- D. $\frac{6}{5}$
- E. $\frac{8}{7}$

2. Nilai dari $\lim_{x \rightarrow \infty} \frac{2x^2 - 9}{5x^3 + 2x - 4} = \dots$

- A. 0
- B. $\frac{2}{5}$
- C. $\frac{2}{4}$
- D. 1
- E. $\frac{9}{4}$

3. Nilai dari $\lim_{x \rightarrow \infty} \frac{7 - 2x^2 + 4x^3}{5x + 6x^2} = \dots$

- A. 0
- B. $\frac{2}{6}$
- C. $\frac{4}{6}$
- D. $\frac{7}{5}$
- E. ∞

4. $\lim_{x \rightarrow \infty} \frac{1 + 2 \dots + x}{\frac{1}{2}x^2 + 1} = \dots$

- A. 0
- B. $\frac{1}{9}$
- C. $\frac{1}{2}$
- D. 1
- E. 2

5. Nilai dari $\lim_{x \rightarrow \infty} (\sqrt{2x+1} - \sqrt{x+3}) = \dots$

- A. -2
- B. -1
- C. 0
- D. 1
- E. ∞

6. Nilai dari $\lim_{x \rightarrow \infty} (x - \sqrt{x^2 - 5x}) = \dots$
- 0
 - $\frac{1}{2}$
 - 2
 - $\frac{5}{2}$
 - 5
7. Nilai dari $\lim_{x \rightarrow \infty} ((2x - 1) - \sqrt{4x^2 - 3x + 6}) = \dots$
- $-\frac{1}{4}$
 - 1
 - $\frac{7}{4}$
 - 2
 - $\frac{5}{2}$
8. Nilai dari $\lim_{x \rightarrow \infty} (\sqrt{x(4x + 5)} - 2x + 1) = \dots$
- 0
 - $\frac{1}{4}$
 - $\frac{1}{2}$
 - $\frac{9}{4}$
 - ∞
9. $\lim_{x \rightarrow \infty} (\sqrt{16x^2 + ax + d} - \sqrt{bx^2 - 2x + c}) = 1$. Nilai $a^2 - b^2 = \dots$
- 156
 - 220
 - 220
 - 644
 - 900
10. $\lim_{x \rightarrow \infty} \sqrt{x^4 + 2x^3 + 4x^2} - \sqrt{x^4 + 2x^3 - x^2}$
- 0
 - $\frac{1}{2}$
 - 1
 - $\frac{3}{2}$
 - $\frac{5}{2}$
11. Nilai $\lim_{x \rightarrow \infty} x(\sqrt{x^2 + 1} - x)$ adalah
- $-\frac{1}{4}$
 - $-\frac{1}{2}$
 - 0
 - $\frac{1}{4}$
 - $\frac{1}{2}$
12. $\lim_{x \rightarrow \infty} (\sqrt{x^2 + 2x + 5} + \sqrt{x^2 + 6x + 3} - 2x) = \dots$
- 4
 - 3
 - 2
 - 1
 - 0

13. Untuk suatu hubungan inang dan parasite tertentu, ditentukan bahwa kerapatan inang (jumlah inang per satuan luas) adalah x dan jumlah parasite selama suatu periode waktu adalah $y = \frac{1200x}{15+30x}$. Jika kerapatan inang ditingkatkan tanpa batas, nilai yang akan didekati oleh y adalah
- 20
 - 30
 - 40
 - 50
 - 60
14. Nilai dari $\lim_{x \rightarrow \infty} \left(2 + \cos \frac{4}{x}\right)$ adalah ...
- 0
 - 1
 - 2
 - 3
 - 4
15. Nilai dari $\lim_{x \rightarrow \infty} \left(-x + \tan \frac{1}{x}\right)$ adalah ..
- $-\infty$
 - 0
 - 1
 - 2
 - ∞
16. Nilai $\lim_{x \rightarrow \infty} \left(3x + \sin \frac{1}{x}\right) = \dots$
- 0
 - 3
 - 4
 - 5
 - ∞
17. Nilai dari $\lim_{x \rightarrow \infty} \frac{2}{x} \cot \frac{1}{x} = \dots$.
- 1
 - 0
 - 1
 - 2
 - 3
18. Nilai dari $\lim_{x \rightarrow \infty} \frac{1 - \cos \frac{4}{x}}{\frac{1}{x} \tan^3 \frac{1}{x}}$ adalah ..
- $\frac{1}{3}$
 - $\frac{2}{3}$
 - $\frac{4}{3}$
 - $\frac{8}{3}$
 - ∞
19. Nilai dari $\lim_{x \rightarrow \infty} x \sin \frac{3}{x} \cos \frac{5}{x} = \dots$
- 0
 - 3
 - 4
 - 5
 - 15
20. Seorang ilmuwan sedang meneliti suatu senyawa. Senyawa ini merupakan hasil reaksi kimia dari beberapa senyawa. Setelah diteliti ternyata jumlah senyawa baru yang

terbentuk mengikuti fungsi $f(t) = 40 + t \sin \frac{30}{t}$, dengan $f(t)$ menyatakan jumlah senyawa dalam milligram dan t waktu dalam detik. Jumlah senyawa yang terbentuk untuk jangka waktu yang sangat lama adalah

- A. 40
- B. 50
- C. 70
- D. 80
- E. 90

KUNCI JAWABAN EVALUASI

1. C
2. A
3. E
4. D
5. E
6. D
7. A
8. D
9. B
10. E
11. E
12. A
13. C
14. D
15. A
16. E
17. D
18. D
19. B
20. C

DAFTAR PUSTAKA

- Domi. <https://math.smapetrus.net/kelas-xii/matematika-minat-xii/limit-diketakhinggaan>. diakses tanggal 14 Oktober 2020.
- Priatna, Nanang dan Titi Sukamto. 2016. *Buku Siswa Aktif dan Kreatif Belajar Matematika untuk SMA/MA Kelas XII Peminatan Matematika dan Ilmu-Ilmu Alam*. Bandung: Grafindo Media Pratama.
- Purcell, E.J., dan Dale Varberg. 1990. *Kalkulus dan Geometri Analitis Edisi Keempat*. Jakarta: Erlangga.
- Putu Darmayasa. <https://www.konsep-matematika.com/2017/06/limit-tak-hingga-fungsi-trigonometri.html>. diakses tanggal 14 Oktober 2020.
- Siswanto. 2005. *Matematika Inovatif: Konsep dan Aplikasinya*. Solo: Tiga Serangkai Pustaka Mandiri.
- Suparmin dan Kurniawati. 2017. *Modulku Matematika Peminatan Matematika dan Ilmu-ilmu Alam untuk SMA/MA Kelas XII*. Surakarta: Mediatama.
- Stewart, James. 2001. *Kalkulus Edisi Keempat*. Jakarta: Erlangga.
- Willa Adrian. 2008. *1700 Bank Soal Bimbingan Pemantapan Matematika Dasar*. Bandung: Yrama Widya.